


Pune-ți mintea la încercare!

2

Activități distractive care dezvoltă inteligența




O provocare pentru istețimea ta!

GIRASOL

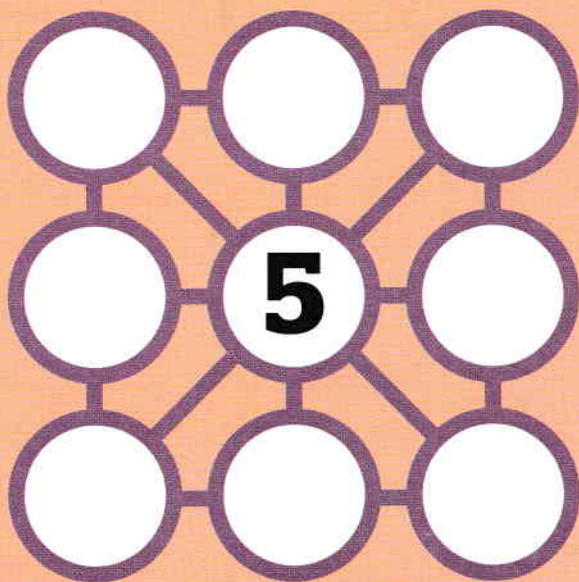

Cifre absente

Completează această piramidă în care fiecare număr este rezultatul sumei celor două numere de sub el.



Sume egale

Completează cercurile cu numere de la 1 la 9 (mai puțin 5), astfel încât suma cifrelor de pe fiecare coloană, rând și diagonală să fie aceeași.





Ce urmează?

Acest șir de numere are o logică. Când o descoperi, vei putea spune care cifră lipsește!




Puzzle

Așază cele cinci forme colorate în interiorul pătratului alb.
Se potrivesc perfect!



Dintr-o linie

Poți să unești toate punctele cu numai patru linii, fără să ridici creionul de pe hârtie?



Ce lipsește?

Urmând logica primelor trei pătrate, poți deduce care număr lipsește în ultimul?

7	5
1	12


2	2
4	10

5	4
3	19

4	2
3	?

Mâna inocentă


Detectivul a reușit să descopere că numai unul dintre cei șapte suspecți nu a participat la jefuirea băncii. Ținând cont de amprentele lăstate de ei, ajută-l să afle cine e nevinovat.



1	2	3	4	5	6	7

Figure cu litere


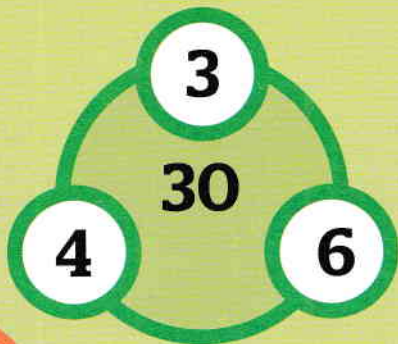
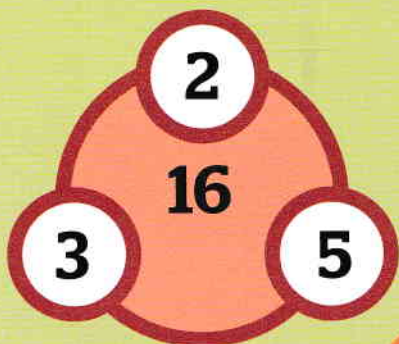
Te provocăm să așezi în jurul celor șase hexagoane cu miere cuvintele de mai jos. Trebuie să poată fi citite în sensul acelor de ceasornic!



fierar, părere, mătușă, căpăta, măsura, cămară, casetă

Să ne gândim!

Urmând logica din exemple, ce număr lipsește din figura de mai jos?



Chibritul mișcător

Mută un singur băț de chibrit și vei obține o altă operație corectă.

